



一、題庫：

說明：第1至60題，包括歷史20題、地理20題、公民20題。

歷史題庫

- 1895 年日軍自北部登陸，鎮守在台南的哪位將領仍然率領黑旗軍繼續抗日？  
(A) 劉永福 (B) 劉銘傳 (C) 沈葆楨 (D) 李鴻章
- 下列哪一事件的性質與其他三者不同？  
(A) 苗栗事件 (B) 玉井事件 (C) 西來庵事件 (D) 噶吧哖事件
- 「三個保正八十斤」這個笑中含淚的故事，說明日本致力發展何種經濟作物時，不僅獨占採購權，低價收購，還以「偷斤兩」的方式剝削農民？(A) 稻米 (B) 茶葉 (C) 甘蔗 (D) 樟腦
- 若我們到烏山頭水庫遊玩，便可看到紀念工程師「八田與一」的銅像。八田與一設計了何項工程，使得臺灣農產量大增？  
(A) 嘉南大圳 (B) 日月潭水力發電所 (C) 八堡圳 (D) 新竹風力發電所
- 亞洲四小龍不包括下列哪一個？(A) 南韓 (B) 香港 (C) 日本 (D) 新加坡
- 美國目前與我們簽訂哪項條約，與我們維持非官方往來？  
(A) 中美共同防禦條約 (B) 臺灣關係法 (C) 兩岸關係條例 (D) 動員戡亂時期臨時條款
- 開始設置加工出口區，鼓勵輸出食品、成衣等輕工業產品，這是政府在經濟改採何種政策？  
(A) 出口擴張 (B) 高科技經濟轉型 (C) 重工業發展 (D) 進口替代
- 兩岸關係在軍事對峙時期，中華民國念念不忘要反攻大陸，而中國大陸的態度則是？  
(A) 採取和平統戰策略 (B) 制定反分裂國家法 (C) 以武力解放台灣 (D) 提出一國兩制
- 台灣的戒嚴時期是從民國幾年到幾年？(A) 34~68 (B) 38~76 (C) 36~80 (D) 36~76
- 下列何者是「台灣民報」的發行機構？  
(A) 台灣民眾黨 (B) 台灣文化協會 (C) 台灣地方自治聯盟 (D) 台灣議會
- 美麗島事件發生在哪一個城市？(A) 台北 (B) 台中 (C) 嘉義 (D) 高雄



天主教恆毅中學 106 學年度第 2 學期 國一社會科 學期補考 題庫

12. 日本人對於台灣「陋習」所採取的方式，下列敘述何者錯誤？
- (A) 總督府將鴉片收歸專賣，只准日人吸食 (B) 女子放足後便於從事生產工作
- (C) 帶動民眾易服改裝的風氣 (D) 人民開始改穿西式或日式服裝
13. 二二八事件的導火線為何？
- (A) 政府實施戒嚴 (B) 白色恐怖造成人心惶惶 (C) 查緝私菸處理不當 (D) 人民沒有參政權
14. 台灣光復初期，國民政府將米糧送到中國大陸，與何事件有關？
- (A) 國共內戰 (B) 韓戰 (C) 美麗島事件 (D) 雷震事件
15. 政府在保障佃農的權益，避免受到地主的剝削，所以有限定最高租金，這是土地改革的哪一個項目？
- (A) 三七五減租 (B) 公地放領 (C) 耕者有其田 (D) 農地重劃
16. 可以到大陸旅遊探親，是在何事件之後？
- (A) 解嚴 (B) 退出聯合國 (C) 三通之後 (D) 李登輝繼任總統
17. 美援的到來跟哪一個事件有關？ (A) 韓戰 (B) 越戰 (C) 國共內戰 (D) 八二三炮戰
18. 日前電視上正播出關於霧社事件的連續劇。請問：若要忠於史實，這部電視劇應該到下列何處拍攝？
- (A) 臺北縣 (B) 臺南縣 (C) 屏東縣 (D) 南投縣
19. 日本控制全臺後，在各地仍有武裝抗日事件。下列武裝抗日事件與領導者配對，何者錯誤？
- (A) 霧社事件—莫那魯道 (B) 苗栗事件—羅福星
- (C) 西來庵事件—余清芳 (D) 噶吧哖事件—劉永福
20. 為了聯絡日本內地與東南亞地區，總督府分別在臺灣擴建哪兩個港口，使臺灣因而成為往來東南亞的重要中繼站？(甲)高雄港(乙)蘇澳港(丙)基隆港(丁)臺中港
- (A) 甲丁 (B) 乙丙 (C) 乙丁 (D) 甲丙

答案 1A 2A 3C 4A 5C 6B 7A 8C 9B 10B 11D 12A 13C 14A 15A 16A 17A 18D 19D 20D



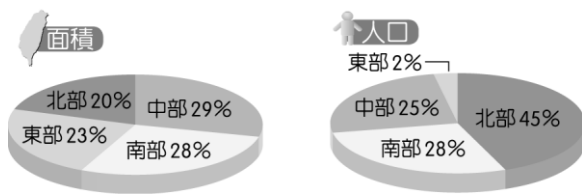
地理題庫

1. 交通是影響經濟發展的重要因素，依其特性可區分為運輸及通訊。請問：附表中有關兩者的分類，何者正確？

	甲	乙	丙	丁
運輸	大眾傳播	空運	管線運輸	電信
通訊	陸運	水運	網際網路	郵政

- (A) 甲 (B) 乙 (C) 丙 (D) 丁。

2. 根據政府資料整理，繪製出民國 105 年臺灣的相關區域資料如附圖所示。請問：由圖中資料判斷，可以得出下列何項人口資料？



- (A) 人口結構組成 (B) 人口素質高低 (C) 人口密度高低 (D) 人口性別比例。

3. 「虛擬城市」是相當受歡迎的電玩遊戲，玩家以首長的身分進行遊戲，透過經營領地解決城市發展問題，以提升等級。附表為遊戲中四個城市的都市化程度，由此判斷，哪一城市最迫切需要解決人口老化及勞力短缺問題？

地區	亞卓城	摩拉城	孤島城	黑嶼城
都市化程度	40 %	90 %	78 %	36 %

- (A) 亞卓城 (B) 摩拉城 (C) 孤島城 (D) 黑嶼城。

4. 基於環境保育及國土保安的前提下，政府依各地特色和需要，提出「國土空間結構與定位」的發展策略。請問：在此策略中，玉山國家公園主要屬於何種發展軸線的項目？ (A) 中央山脈保育軸 (B) 海洋環帶 (C) 東部優質生活產業軸 (D) 離島生態觀光區。



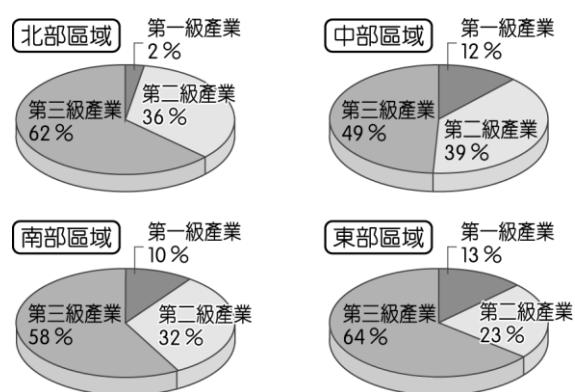
天主教恆毅中學 106 學年度第 2 學期 **國一社會科** 學期補考 題庫

5. 附表為 2009 年臺灣的人口相關資料，根據內政部的統計，該年出生率再創歷史新低，恐將影響國家未來的整體經濟發展。若僅利用表中的二項數據直接計算該年出生率，下列何種組合最合適？

項目	人數(人)
甲 人口總數	23,119,772
乙 育齡婦女 (15~49 歲) 人數	6,289,980
丙 幼年人口數	3,595,419
丁 新生嬰兒數	192,133

(A) 甲、丙 (B) 甲、丁 (C) 乙、丙 (D) 乙、丁。

6. 附圖為臺灣四大區域各級產業就業人口比例圖。請由圖中資料判斷，哪一個區域的工業最不發達？



(A) 北部區域 (B) 中部區域 (C) 南部區域 (D) 東部區域。

7. 南投縣的茶葉品質良好，頗負盛名，其生產的有利條件主要為何？(甲) 山地面積大 (乙) 灌溉便利 (丙) 溼度高 (丁) 氣溫高 (A) 甲丙 (B) 乙丁 (C) 甲丁 (D) 乙丙。

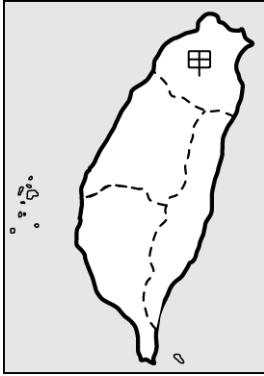
8. 與美國、加拿大等地的粗放農業相較，臺灣的集約農業具有哪些特徵？(甲) 農地單位面積投入的人力較多 (乙) 採用大規模機械耕種 (丙) 單位成本高，缺乏競爭力 (丁) 單位面積的產量較低 (A) 甲丙 (B) 丙丁 (C) 乙丁 (D) 甲丁。

9. 某國人口總數為 6,400 萬人，而都市人口數為 3,000 萬人。請問：該國都市化程度約為多少？ (A) 38% (B) 47% (C) 56% (D) 65%。



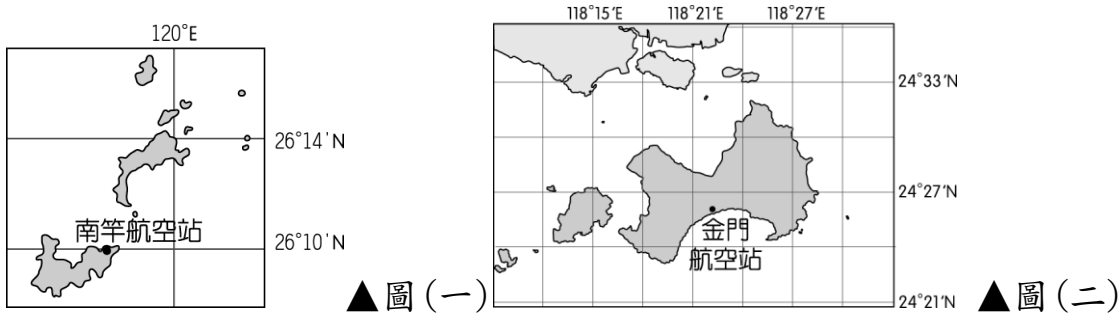
天主教恆毅中學 106 學年度第 2 學期 國一社會科 學期補考 題庫

10. 臺灣進入歷史時代至今約為四百年左右，各個區域的發展也有所不同。若搭乘時光機回到過去，發現隨著茶葉、樟腦的外銷，當時臺灣的發展重心逐漸移到附圖中的甲區域。請問：上述的臺灣經濟發展最早出現於下列何時？



- (A) 國際競爭時期 (B) 鄭氏時期 (C) 清領後期 (D) 日本皇民化運動時期。

11. 空軍連隊的陳少尉若欲從圖(一)中的南竿航空站起飛，前往圖(二)的金門航空站。請問：其飛行方向應該為何？



- (A) 東北方 (B) 東南方 (C) 西北方 (D) 西南方。
12. 附表是亞米國四個港口對外輸出額與其所創造就業機會的統計表。根據表中內容推斷，哪一個港口對亞米國的經濟發展最有貢獻？(A)加德港 (B)蒙馬港 (C)里昂港 (D)普羅港。

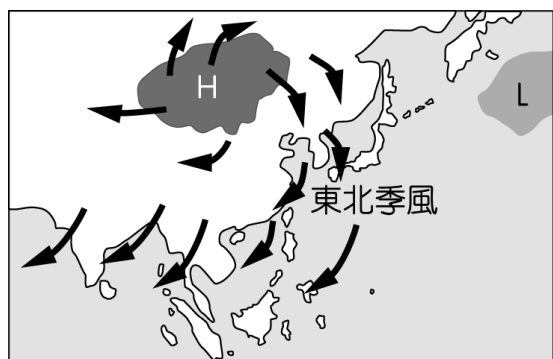
港口	輸出額 (百萬元)	創造就業機會 (個)
加德港	52,251	1,045,013
蒙馬港	17,353	347,098
里昂港	15,714	358,276
普羅港	9,180	183,597

13. 宜蘭地區與大臺北地區的距離因隧道的完工而縮短，因此，每逢假日宜蘭地區湧進許多人潮，連帶使當地的生產活動轉型，促進食品加工業、精緻農業、休閒觀光業的發展。根據上述內容，興建隧道對宜蘭地區產生下列哪一種影響？ (A) 增加當地推力，平衡人口分布 (B) 提供就業機會，改變產業結構 (C) 加速經濟發展，擴大城鄉差距 (D) 提升農產需求，偏重一級產業。

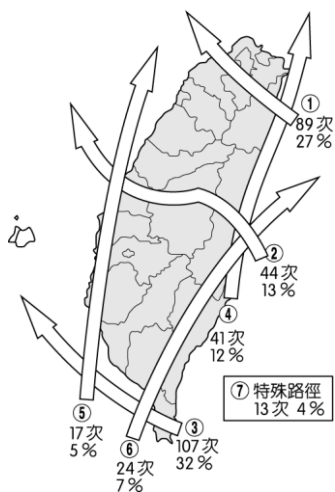


14. 臺灣屬於季風氣候區，降水分布受到盛行風向的影響。附圖為臺灣某季節所出現的盛行風向。請問：此時哪一區域出現降雨的機率最高？

- (A) 北部區域 (B) 中部區域 (C) 南部區域 (D) 東部區域。

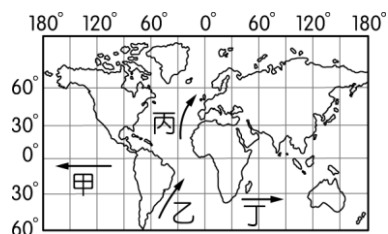


15. 臺灣位於西太平洋上，每年都會受到颱風的侵襲，附圖為歷年侵臺的颱風路線圖。請問：哪一個區域受到颱風直接侵襲的機率最高？



- (A) 北部區域 (B) 中部區域 (C) 南部區域 (D) 東部區域。

16. 洋流的性質隨著流動方向而有所不同，附圖中四股洋流，何者屬於寒流特性，經常為附近海域帶來富含油脂的寒帶魚群？



- (A) 甲 (B) 乙 (C) 丙 (D) 丁。

17. 傳統人類生活的聚落以鄉村為主，然而近年來由於社會經濟的發展，再加上何項因素的影響，都市



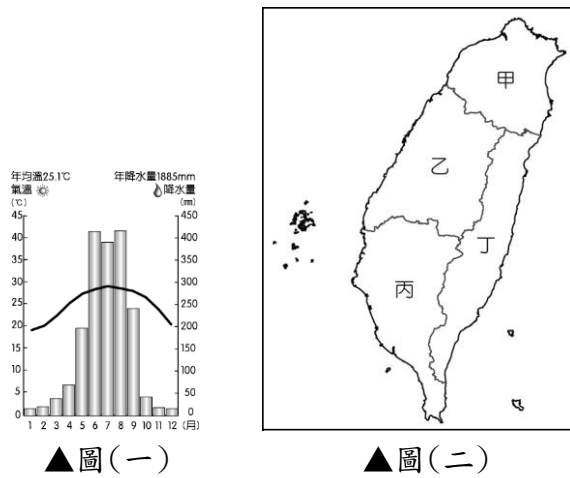
天主教恆毅中學 106 學年度第 2 學期 國一社會科 學期補考 題庫

聚落的人數愈來愈多，更加速了都市化的發展？

- (A) 農田汙染日益嚴重 (B) 交通愈加便捷 (C) 都市人口出生率高 (D) 都市糧食自給自足。

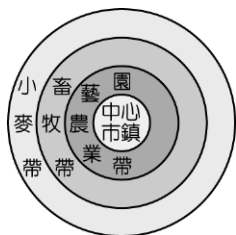
18. 圖(一)為臺灣某區域的氣溫及降水量圖，請根據圖(一)判斷，此區域應位於圖(二)中何處？

- (A) 甲 (B) 乙 (C) 丙 (D) 丁。



19. 王同學在進行地理實察時，繪出該地區的產業活動分布圈帶如附圖所示。根據其地理位置加以判斷，

該中心市鎮主要的產業活動最不可能為下列何者？



- (A) 第一級產業 (B) 第二級產業 (C) 第三級產業 (D) 交通運輸業。

20. 民國 60 年代彰化及雲林主要生產稻米、甘蔗，成為臺灣主要的農產品生產地。但是後來因為受

到下列哪一因素的影響，而逐漸轉型為花卉蔬果專業區？ (A) 興建水庫灌溉 (B) 開闢公路運輸

系統 (C) 農業人口流失 (D) 耕作土地變小。

- 1.(C) 2.(C) 3.(D) 4.(A) 5.(B) 6.(D) 7.(A) 8.(A) 9.(B) 10.(C)  
11.(D) 12.(A) 13.(B) 14.(A) 15.(D) 16.(B) 17.(B) 18.(C) 19.(A) 20.(B)



公民題庫

- ( ) 1. 社會是由許多個人所組成，面對社會中不同地位的人，我們應抱持哪種正確的心態？ (A)只跟社會地位高的人做朋友 (B)歧視社會地位低的人 (C)以友善的態度對待不同地位的人 (D)全力模仿社會地位高的人
- ( ) 2. 幸福高中校友會由畢業校友共同組成，藉由舉辦活動提供畢業校友互相聯絡的平臺。這是屬於哪種取向的團體？ (A)達成工作任務 (B)建立人際關係 (C)以學術為目的 (D)以文化為目標
- ( ) 3. 伊斯蘭教徒認為行善者才能上天堂，這種觀念與下列何者不同？ (A)人在做天在看 (B)舉頭三尺有神明 (C)清明時節掃墓 (D)因果報應，屢試不爽
- ( ) 4. 政府機關依據法律授權或規定，推動公共政策或管理公共事務之權力，稱為公權力。下列何者的行為並非在行使公權力？ (A)警察執行臨檢勤務 (B)檢察官代表國家起訴犯人 (C)海巡人員取締走私 (D)李先生向顧客兜售保險
- ( ) 5. 隨著都市化與工業化的現代社會興起，人們對傳統婚喪喜慶的儀式，有逐漸簡化的趨勢，以符合現代人忙碌的生活型態。這是屬於下列哪一項社會規範的範圍？ (A)風俗習慣 (B)倫理道德 (C)宗教信仰 (D)法律
- ( ) 6. 阿倫的爸媽每次選舉時，必定返鄉參與投票。此種行為具備哪一部分的公民素養？ (A)尊重他人與理性溝通 (B)關心公務並積極參與 (C)遵守法律與捍衛正義 (D)重視公德與增進公益
- ( ) 7. 文化中不可見而深入人心，牢不可破的是下列何者？ (A)器物 (B)理念 (C)技術 (D)制度
- ( ) 8. 臺灣業者推出以指紋辨識使用者身分的筆記型電腦，希望藉此加強資料保密。這款筆記型電腦的發明是屬於社會變遷的哪一種層面？ (A)理念 (B)器物 (C)休閒 (D)制度
- ( ) 9. 隨著性觀念逐漸開放，青少年未婚懷孕的比率節節攀升，為培養青少年尊重自身與宇宙萬物的生命尊嚴，我國政府乃結合民間力量，積極在各級學校推廣重視生命的系列課程。上述生命教育的推行，顯示何種面向的變遷？ (A)理念影響制度更新 (B)制度促使器物精進 (C)器物導致理念提升 (D)理念精緻化器物





- ( )10. 關於社會變遷的敘述，下列何者正確？ (A)人類社會必然發生的現象 (B)它所帶來的影響都是正面的 (C)它帶來的影響多半都只有負面的 (D)人口的遷移並不會造成社會的變遷
- ( )11. 昔日，在泰國，嫁個洋老公並非光彩的事，然而近年來洋女婿大受歡迎，女兒嫁洋人不再是丟人的事。此種今昔變化，稱之為何？ (A)社會風氣 (B)社會變遷 (C)社會互動 (D)社會交流
- ( )12. 隨著性別平等觀念的高漲與《性別工作平等法》的公布實施，許多企業透過各種方式希望達到這項法律制定的目的，例如：擴建女廁、給予育嬰假等。這是社會變遷中哪些層次所產生的相互影響？  
(A)器物→制度→理念 (B)制度→理念→器物 (C)器物→理念→制度 (D)理念→制度→器物
- ( )13. 社會上父母親不當管教子女、虐待子女的新聞事件層出不窮，因此在眾多的家庭問題當中，下列何者極需社會伸出援手，是刻不容緩需解決的問題？  
(A)老人安養 (B)婚外情 (C)溝通不良 (D)家庭暴力
- ( )14. 面對多元的現代社會，個人往往需要在各方面作適度調整，才容易適應現代社會的生活。下列敘述何者正確？ (A)遇有爭執時，應據理力爭，將事件盡快解決 (B)酒醉駕車被捕，口出惡言辱罵警察 (C)個人對於公共事務的參與不必太積極，可避免公共事務被少數人操控 (D)個人不斷自我肯定和自我惕勵，並以平常心參與各項競爭
- ( )15. 《世界人權宣言》強調人皆生而自由，享有尊嚴及權利，其中哪一個觀點不符合這句話的精神？  
(A)個人自由應以不侵害他人自由為原則 (B)可以用多數決的方式，限制少數人的基本權利 (C)追求自由應以自由、合法為前提 (D)積極行使自己的權利，也應尊重他人的權利
- ( )16. 社會對於貧苦、孤獨、殘疾等弱勢族群，給予關懷與照顧，使他們能與眾人平等生活，這是下列何種觀念的表現？ (A)社會流動 (B)社會規範 (C)社會正義 (D)社會倫理
- ( )17. 「社會福利是政府根據國家的經濟社會條件，推動各項福國利民的措施，以保障人民的□□。」  
上文中的□□應填入下列何者？  
(A)最高生活 (B)基本生活 (C)最高社會收入 (D)最低薪資保障



- ( ) 18. 民眾常在學校、車站、行政機關看到電梯、導盲磚、殘障坡道等設施，這些都是政府為了減少身心障礙者的不便，積極推動無障礙生活空間之設施。這些設施屬於社會福利的哪一個項目？  
(A)健康與醫療照護 (B)社會救助與津貼 (C)就業安全 (D)福利服務
- ( ) 19. 小明爸爸在工廠遷移到中國後就失業了。他可以使用哪項社會福利政策來幫助他找到工作？  
(A)社會救助與津貼 (B)就業安全 (C)福利服務 (D)健康與醫療照護
- ( ) 20. 文化創新與傳承不斷產生激盪，如何在兩者之間取得平衡，這是社會文化形成的過程中的所要面臨的重要課題。關於「文化創新」，下列敘述何者是正確的？ (A)融合新、舊文化發展出獨特的風格 (B)周杰倫的演唱會表演就是一種文化創新 (C)只有精神文化層次有可能發生文化創新 (D)通常只局限在進步的國家文化中。

1. 答案：C
2. 答案：B
3. 答案：C
4. 答案：D
5. 答案：A
6. 答案：B
7. 答案：B
8. 答案：B
9. 答案：A
10. 答案：A
11. 答案：B
12. 答案：D
13. 答案：D
14. 答案：D
15. 答案：B
16. 答案：C
17. 答案：B
18. 答案：D
19. 答案：B
20. 答案：A