

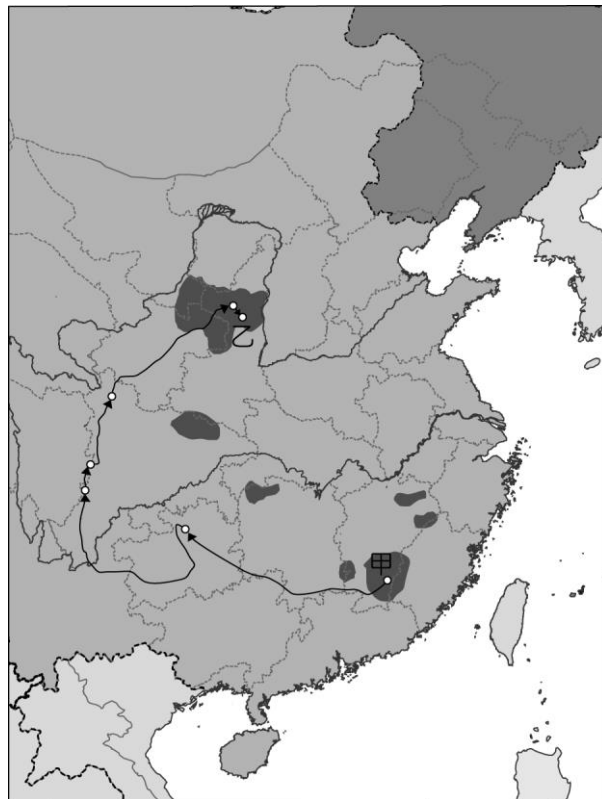


天主教恆毅中學 105 學年度第二學期 國二社會領域 補考 題庫

範圍： 國二下社會（全） 命題老師： 考試日期：106 年 9 月 22 日
 考試編號： 班級： 座號： 姓名：

歷史

- 對日本的八年抗戰是第二次世界大戰的一環，以下是第二次世界大戰的重要史事：(甲)珍珠港事變(乙)盧溝橋事變(丙)開羅會議(丁)南京大屠殺(戊)淞滬會戰。按照先後順序排列，何者正確？ (A)甲乙丙丁戊 (B)乙戊丁丙甲 (C)甲丙乙丁戊 (D)乙戊丁甲丙。
- 老師要同學閱讀清末民初的文學作品，並分享閱讀心得。小明選擇閱讀《狂人日記》。請問：這本書的作者應是下列何人？ (A)胡適 (B)魯迅 (C)陳獨秀 (D)蔡元培。
- 附圖是中共二萬五千里長征圖。根據圖中的路線判斷，甲、乙分別是何地？



- (A)甲：延安、乙：瑞金 (B)甲：瑞金、乙：延安 (C)甲：瑞金、乙：西安 (D)甲：南京、乙：西安
- 清末推行自強運動，總理各國事務衙門是當時成立的第一個新機構。該機構最初設立的目的最可能為下列何者？ (A)裁決司法案件 (B)籌辦議會政治 (C)辦理外交事宜 (D)籠絡境內民族。
 - 護國軍雲南起義的目的是在反對下列哪一件事件的發生？ (A)曹錕賄選 (B)段祺瑞獨裁 (C)溥儀復辟 (D)洪憲帝制。
 - 小娟整理了一個表格如附表，依表格內容判斷，小娟最有可能在整理下列哪一事件的背景資料？

職位	姓名	身分
內閣總理大臣	慶親王奕劻	滿·宗室
內閣協理大臣	那桐	滿
	徐世昌	漢（直隸天津人）
外務大臣	梁敦彥	漢（廣東順德人）
民政大臣	肅親王善耆	滿·宗室
	桂春	滿
	趙秉鈞	漢（河南汝州人）
度支大臣	鎮國公載澤	滿·宗室
學務大臣	唐景崇	漢（廣西灌陽人）
陸軍大臣	蔭昌	滿
海軍大臣	貝勒載洵	滿·宗室
司法大臣	紹昌	滿·覺羅
農工商大臣	貝子加貝勒銜	滿·宗室
	溥倫	

- (A)百日維新 (B)皇民化運動 (C)自強運動 (D)立憲運動。



天主教恆毅中學 105 學年度第二學期 國二社會領域 補考 題庫

7. 附圖是一幅歷史照片與說明，圖說人物曾兩度被俘。依據說明，此人最可能先後被下列何者所俘？



- (A)日本、美國 (B)日本、中國國民黨 (C)中國共產黨、美國 (D)中國共產黨、北韓。
8. 康有為的維新變法和孫中山創立革命運動組織，同受下列哪一次戰爭的刺激？ (A)甲午戰爭 (B)八國聯軍 (C)中法戰爭 (D)英法聯軍。
9. 後人在評價曾國藩的生平時，一定會提及他對「粵匪」的豐功偉業，因為曾國藩以儒生自居，號召天下儒生組織湘軍，面對來勢洶洶的「粵匪」，是毫無畏懼，軍事行動勢如破竹……。請問：上述的「粵匪」應指何者？ (A)英法聯軍 (B)太平天國 (C)義和團 (D)革命人士。
10. 舉世聞名的南京大屠殺，時時刻刻提醒我們戰爭的殘酷，要珍惜得來不易的和平。請問：南京大屠殺發生在下列哪個時期？ (A)袁世凱執政時期 (B)北伐時期 (C)十年建設時期 (D)八年抗戰時期。
11. 清光緒年間，美國提出「門戶開放政策」，其主要用意何在？ (A)保持友好關係 (B)盤算自身的利益 (C)維持中國領土完整 (D)幫助中國發展民族工業。
12. 在第一次世界大戰後所召開的和會中，列強不顧中國為戰勝國之一，竟應允日本繼承何國在中國山東的特權？ (A)英國 (B)法國 (C)德國 (D)蘇聯。
13. 光緒 26 年，「義和團事件」發生的主要原因為何？ (A)新思潮的衝擊 (B)反清復明 (C)仇洋反教 (D)瓜分危機。
14. 阿龍是清末的知識分子，他認為當時的中國面對列強的侵略，必須要大力改革，才能救亡圖存。因此他主張以光緒皇帝為首，改革政治制度、精簡政府機構，設立京師大學堂等。依上述內容來判斷，阿龍最可能會參與下列哪一事件？ (A)鴉片戰爭 (B)太平天國 (C)自強運動 (D)戊戌變法。
15. 幾位同學正在討論《馬關條約》的內容，其中有位同學發言錯誤。請問：講錯的是下列哪位同學？ (A)

這是朝鮮割讓給日本的關鍵條約。

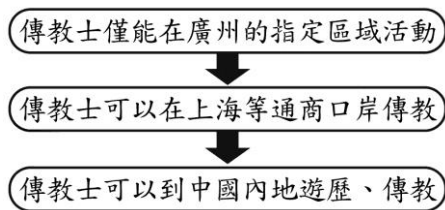
臺灣與澎湖也一併割讓給了日本。

條約簽訂後，外商公司在中國有如雨後春筍般的成立。

臺灣從此易主，進入日治時期。

(B) (C) (D)

16. 1840 年遠東的這場戰爭，導火線是由於來自英國殖民地印度的毒品走私被查禁，經過英國議會激烈辯論，最終以 271 票對 262 票，通過發動戰爭決議案，最後這場報復行動以簽訂不平等條約結束。請問：這場戰爭為何？ (A)鴉片戰爭 (B)英法聯軍 (C)甲午戰爭 (D)中法戰爭。
17. 下列歷史事件，何者發生的時間最晚？ (A)韓戰 (B)中華人民共和國成立 (C)文化大革命 (D)國民政府遷臺。
18. 附圖呈現清中葉以後，朝廷允許外國傳教士在華活動範圍逐漸改變的情形。造成此轉變的原因，最可能是下列何者？ [105.會考]

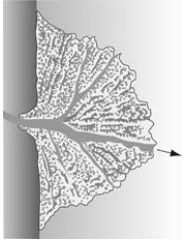


- (A)清朝對外條約的簽訂 (B)太平天國的傳教影響
(C)清朝接受美國的門戶開放政策 (D)中國經濟重心由沿海轉向內地。
19. 民國 12 年，某人賄賂國會議員而當選總統，孫中山因而結束護法，改而聲討某人賄選。請問：某人是誰？ (A)溥儀 (B)張勳 (C)曹錕 (D)段祺瑞。
20. 民國 14 到 16 年，國民政府遷移的順序，下列何者正確？ (A)廣州→武漢→南京 (B)南京→廣州→北京 (C)廣州→南京→北京 (D)南京→武漢→北京。



地理

() 1. 附圖是說明珠江水系哪個河段的地形？



(A)上源 (B)山地進入平原 (C)中、下游 (D)河流入海處

() 2. 廣東省和福建省自古即有「中國僑鄉」之稱，造成該省人口大量外移的主要原因為何？

(A)政治紛擾，民不聊生 (B)位置偏僻，民情野蠻 (C)耕地過少，謀生不易 (D)水旱災不斷，民生疾苦

() 3. 長江是中國最具內河航運價值的河川，素有中國的「黃金水道」之稱。下列何者不是長江富有航運價值的原因？

(A)河川流量穩定 (B)流域面積廣大 (C)連結世界航線 (D)深具水電資源

() 4. 《孟子·盡心》記載：「孔子登泰山而小天下」，意指登上泰山視野廣闊，而有天下景物皆渺小的感覺。當孔子爬上位於山東丘陵的泰山時，其眼下所俯瞰的廣闊地區應為下列哪個地理區？

(A)華北平原 (B)東北平原 (C)黃土高原 (D)長江三角洲

() 5. 黑龍江流路甚長，但航運價值卻不高，影響其航運價值的最大原因為何？

(A)流量較少 (B)汙染嚴重 (C)地處國界 (D)結冰期長

() 6. 目前北部區域所進行的「南水北調」工程，其中「南水」指的是下列哪條河流？

(A)珠江 (B)長江 (C)岷江 (D)漢水

() 7. 史朗利用假期前往中國某區域遊覽，吐魯番火焰山、高昌古城遺址、拉薩布達拉宮、天山草原保護區，都是這次行程的重要觀光景點。史朗前往的地區應該是哪裡？

(A)北部區域 (B)南部區域 (C)東部區域 (D)西部區域

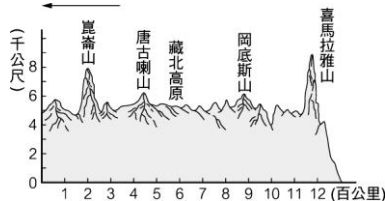
() 8. 河西走廊的綠洲農業多靠哪種水源灌溉？

(A)井水 (B)雪水 (C)湖水 (D)雨水

() 9. 溫帶沙漠氣候的主要特徵不包括下列何者？

(A)降水量少 (B)溫差小 (C)冬嚴寒 (D)夏酷暑

() 10. 附圖為青藏地區的地形剖面圖，圖中的箭頭所指的是哪個方向？



(A)東 (B)南 (C)西 (D)北

() 11. 「西部大開發」政策是希望透過區域間資源的開發及調配，以提高西部區域的經濟和社會發展水準。其中四項重要工程為「西氣東輸」、「西電東送」、「南水北調」、「青藏鐵路」。上述工程中，哪項的西線工程部分計畫由於位處青藏高原上，海拔高、地質構造複雜、地震強度大，工程技術複雜、耗資巨大，現在仍處於可行性研究評估中，尚未全面動工？

(A)西氣東輸 (B)西電東送 (C)南水北調 (D)青藏鐵路

() 12. 近年來，中國在北方實施了三北防護林體系的建設工程，不斷加大生態環境與建設力度，提高森林覆蓋率，使中國生態狀況得到明顯改善。這項工程的進行主要可解決西部區域的哪項環境問題？

(A)鹽鹼化 (B)沙漠化 (C)地層下陷 (D)河床過高

() 13. 附圖為世界地圖，碧兒搭乘飛機由臺灣出發，沿北回歸線向東飛行，環繞世界一周。依序她會經過下列哪些地方？



(A)亞洲、非洲、南美洲 (B)南美洲、非洲、亞洲 (C)北美洲、歐洲、亞洲 (D)北美洲、非洲、亞洲

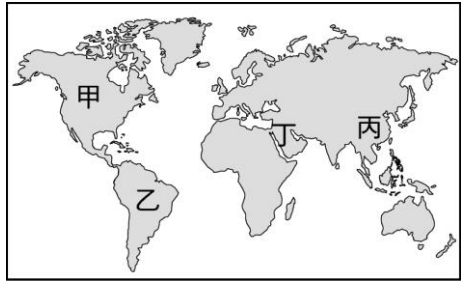


天主教恆毅中學 105 學年度第二學期 國二社會領域 補考 題庫

- ()14. 地表回歸線附近，為什麼氣候大多乾燥？
 (A)副熱帶高壓所籠罩 (B)太陽直射時間較長 (C)距離海洋太遠 (D)地勢太過低平
- ()15. 附圖為世界某兩個國家的小朋友所寫下的日記，由這兩篇日記我們可看出什麼現象？

我是住在非洲史瓦濟蘭的祖魯，今天來自臺灣世界展望會的阿姨叔叔們，帶了好多衣服、食物跟玩具分送給我們，村莊裡的小朋友都很開心……	今天，爸爸帶我跟姊姊去麥當勞吃早餐，吃完再去新光三月買玩具，爸爸買了我最喜歡的變形金剛、姊姊買了他最愛的 Hello Kitty。
---	---

- (A)環境破壞 (B)人口分布不均 (C)貧富差距 (D)國際貿易發達
- ()16. 「古蘭經上明文規範禁食豬肉，且□□及□□等地區的許多人群都將豬肉視為禁忌，人類學家解釋是因為當地氣候乾燥，豬隻無法適應游牧生活，且飼養豬隻勢必影響人類的用水，因此在教義中將『豬』定義成骯髒的代名詞。」上述文句中的空格應該位於附圖哪個地區？



- (A)甲 (B)乙 (C)丙 (D)丁
- ()17. 環太平洋的臺灣、日本、印尼等地，火山、地震活動頻仍，這種現象說明臺灣、日本、印尼在自然環境上有什麼共同點？
 (A)均有寒暖流通過 (B)位於板塊交界處 (C)山多平原少 (D)屬於季風氣候區

- ()18. 快段考了，伍科做了一張南、北韓農業環境的比較表。請根據附表資料判斷，哪個選項是正確的？

	(A)主要作物	(B)生長季	(C)年降水量	(D)耕地面積
北韓	大麥、稻米	較短	多	多
南韓	小麥、稻米	較長	少	少

- ()19. 中南半島在種族和文化等方面深具過渡性色彩，此一現象的形成，主要是由於下列哪項因素？
 (A)位置 (B)地形 (C)氣候 (D)政策
- ()20. 附表是南亞五個國家的主要宗教的信仰人口比例，表中丙、丁各是代表哪個國家？

國家	印度教	伊斯蘭教	佛教	基督教	其他
甲	80	11	1	2	6
乙	2	95	—	2	1
丙	12	87	—	—	1
丁	—	8	70	8	14
戊	89	3	5	—	3

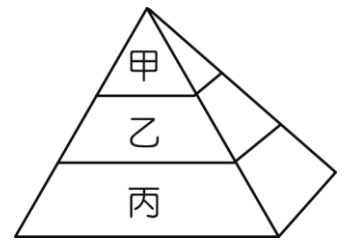
- (A)孟加拉、斯里蘭卡 (B)巴基斯坦、印度 (C)尼泊爾、斯里蘭卡 (D)巴基斯坦、孟加拉

公民

- ()1.新聞報導：一名 14 歲的國二學生，因在學校恐嚇勒索同學、吸食毒品，被依照《少年事件處理法》移送偵辦。《少年事件處理法》是規範幾歲的少年？
 (A)12 歲以上，未滿 18 歲 (B)14 歲以上，未滿 18 歲 (C)12 歲以上，未滿 20 歲 (D)14 歲以上，未滿 20 歲
- ()2.對於一定之犯罪行為，判令犯罪者繳納一定金錢之刑罰為下列何者？
 (A)罰鍰 (B)罰金 (C)罰款 (D)罰責
- ()3.下列有關於民事責任的敘述，何者有「誤」？(A)違反民事法所應負的法律責任 (B)債務不履行是日常生活常見的違反民事法行為 (C)毀壞他人之物是屬於侵權行為 (D)未成年人違反民事法，不須負擔任何責任。
- ()4.下列關於我國刑事訴訟的敘述，何者正確？
 (A)被害人向法院提起公訴，請求判決被告有罪 (B)檢察官認為有犯罪嫌疑時可向法院提起告發 (C)檢察官不得主動偵查與起訴告訴乃論的犯罪 (D)任何人知道犯罪事實都可向司法警察機關自訴



- () 5.以附圖表示法律的位階，請問：下列敘述何者正確？
 (A)丙包含《中華民國憲法增修條文》 (B)乙由行政機關制定，立法機關修改
 (C)三者效力強弱為 丙>乙>甲 (D)甲乙丙依序分別代表：憲法、法律、命令。
- () 6. 國防部表示，為因應推動募兵制，已通過《兵役法》修正案規定自 2013 年開始，役男改接受四個月的「常備兵役軍事訓練」。請問：上述的內容顯示我國《憲法》規定的何項基本義務並未被取消？
 (A)就業(B)受國民教育 (C)納稅 (D)服兵役。
- () 7.阿寶在逛街時遭歹徒搶奪手提包，他選擇直接向法院對該名歹徒提起刑事訴訟，請求法院判處歹徒搶奪罪刑。請問：上述程序在法律上稱為什麼？
 (A)上訴 (B)公訴 (C)自訴 (D)告訴
- () 8.胖虎趁夜歸婦女沒有防備的時候，騎乘機車強行取走她的皮包。根據上述內容判斷，胖虎的行為可能觸犯下列何罪？
 (A)搶奪罪 (B)竊盜罪 (C)贓物罪 (D)恐嚇取財罪
- () 9.下列關於調解與和解的比較內容，何者敘述正確？



	和 解	調 解
適用範圍	民事案件	刑事案件
適用時間	起訴前	起訴後
進行方式	雙方進行 溝通	由第三人 居中協調
法律 效力	具有強制 執行力	等同法院 判決

- (A)適用範圍 (B)適用時間 (C)進行方式 (D)法律效力
- () 10.在網路上四處張貼色情圖片及文字，並寄送給他人，此舉已經觸犯哪種罪刑？
 (A)妨害名譽罪 (B)妨害自由罪 (C)妨害風化罪 (D)妨害性自主罪
- () 11.小新的父親過世後，留下 200 萬遺產與 300 萬債務。在家族會議時，有四位長輩分別提出繼承方式的建議，哪位長輩的說法最符合現行法律有關繼承制度的規定？ (A) 伯父：選擇拋棄繼承，只能繼承 300 萬債務 (B) 姑姑：選擇限定繼承，須償還 200 萬的債務 (C) 姑丈：選擇拋棄繼承，只須繼承 200 萬遺產 (D) 嬸嬸：選擇限定繼承，須償還 300 萬的債務。
- () 12.宜靜和朋友搭乘遊覽車出遊，行駛途中遊覽車突然冒出火花，宜靜為了順利逃出，用窗戶擊破器將車窗擊破。此時，她可以下列哪項理由，主張自己不構成違法行為？
 (A)正當防衛行為 (B)緊急避難行為 (C)依法令的行為 (D)業務上的正當行為
- () 13.小丸子上班快遲到了，在開車前往公司的路上不但超速行駛還闖紅燈。這種不遵守交通規則的行為應負何種責任？
 (A)行政責任 (B)民事責任 (C)刑事責任 (D)政治責任
- () 14.《民法》規定之「完全行為能力人」因心智已經成熟，可以為自己的行為負責，故可從事任何法律行為。下列何人屬於「完全行為能力人」？
 (A)參加立法委員補選落選的阿明 (B)剛升上高中一年級的小琪 (C)被法院裁定受監護宣告的阿娟 (D)剛升上國小一年級的小文
- () 15.宜宜為了購買最新款的智慧型手機，於是從事性交易以賺取金錢，不久被警方查獲，經法院審理後被裁定至法定機構安置。宜宜依法應安置於下列哪一機構？
 (A)少年之家 (B)中途學校 (C)少年矯正學校 (D)寄養家庭
- () 16.阿雄拾獲一本學生辭典並占為己有，經失主阿明知悉後向阿雄索討，但他拒絕歸還以致引發爭執，阿明一氣之下向法院提起訴訟。請問：本案最高可訴訟至哪一級法院？
 (A)地方法院 (B)高等法院 (C)最高法院 (D)最高行政法院
- () 17.由當事人事先訂定書面仲裁協議，約定將有關現在或將來依法得和解之爭議，交由專業人士解決爭議，此種制度稱為下列何者？



天主教恆毅中學 105 學年度第二學期 國二社會領域 補考 題庫

(A)仲裁 (B)和解 (C)調解 (D)自訴

- ()18.苗栗縣政府徵收農地，引發大埔農民抗爭的事件因涉及基本人權議題，引發社會大眾關注。下列敘述與憲法保障的基本人權配對，何者正確？
(A)苗栗縣政府徵收大埔農地：自由權 (B)大埔農民北上總統府請願：受益權 (C)大埔農民組成大埔自救會：參政權 (D)大埔農民夜宿在凱道街頭：平等權

國一的米德（13 歲）因在班上被嘲笑，回家和兩位哥哥，高二的米憲（17 歲）及大一的米信（19 歲），聯手在網路上用惡毒的語言攻擊該位同學。請依上文敘述回答：

- ()19.三兄弟的行為觸犯我國的何項法律？ (A)《刑法》 (B)《所得稅法》 (C)《憲法》 (D)行政法規
()20.兄弟三人的違法行為分別適用何項處罰？ (A)米德屬無責任能力人，不須負擔任何責任 (B)米憲屬限制責任能力人，可以減輕處罰 (C)米信屬完全責任能力人，可以減輕處罰 (D)兄友弟恭，是值得嘉許的行為，不用接受處罰。



天主教恆毅中學 105 學年度第二學期 國二社會領域 補考 題庫

歷史

- 1.(D) 2.(B) 3.(B) 4.(C) 5.(D) 6.(D) 7.(C) 8.(A) 9.(B) 10.(D)
11.(B) 12.(C) 13.(C) 14.(D) 15.(A) 16.(A) 17.(C) 18.(A) 19.(C) 20.(A)

地理

1. 答案：D
2. 答案：C
3. 答案：D
4. 答案：A
5. 答案：D
6. 答案：B
7. 答案：D
8. 答案：B
9. 答案：B
10. 答案：D
11. 答案：C
12. 答案：B
13. 答案：D
14. 答案：A
15. 答案：C
16. 答案：D
17. 答案：B
18. 答案：B
19. 答案：A
20. 答案：A

公民

1	A	6	D	11	B	16	B
2	B	7	C	12	B	17	A
3	D	8	A	13	A	18	B
4	C	9	C	14	A	19	A
5	D	10	C	15	B	20	B